

## H4 Meten en meetkunde – Niveau 1F

1. Op de grote afbeelding zie je een dorp. Een molenaar kijkt vanaf zijn molen naar de vuurtoren. Op welke van de kleine afbeeldingen zie je wat de molenaar ziet?



- plaatje A
- plaatje B
- geen van bovenstaande
- plaatje C

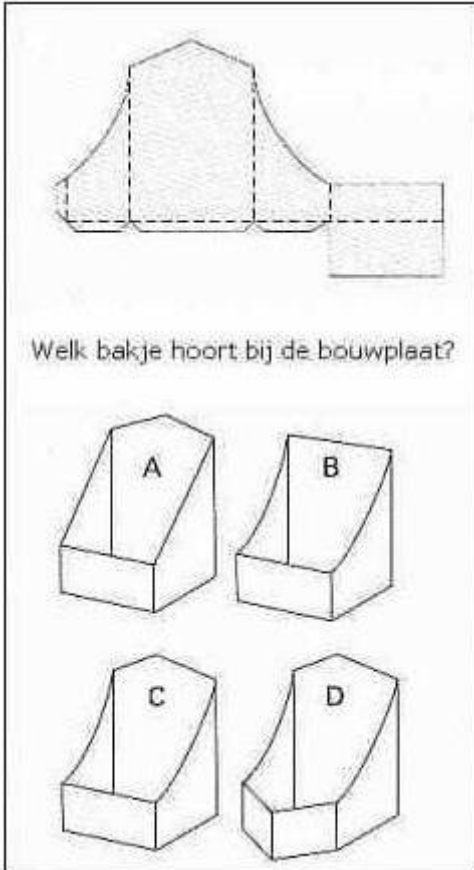
2. Wat is je snelheid als je normaal wandelt?

- 1 kilometer per half uur
- 4 kilometer per kwartier
- Een realistisch antwoord staat er niet bij.
- 12 kilometer per uur

3. 37 graden Celcius is de temperatuur die hoort bij


- een koelkast
- normale lichaamstemperatuur
- een voorverwarmde oven
- kokend water

4. Welk bakje hoort bij de bouwplaat?



- bakje A
- bakje B
- bakje C
- bakje D

5. Hoeveel blokken telt dit bouwsel?



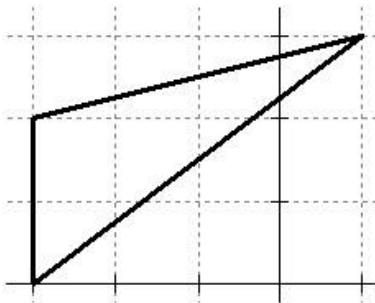
---

6. De kantine gaat om half 6 's middags open. Hoe lang moet je nog wachten?



- minder dan een uur
- ongeveer 1,5 uur
- iets minder dan 2 uur
- ongeveer 2,5 uur

7. Bereken de oppervlakte van deze driehoek in hokjes.



- 4 hokjes
- 6 hokjes
- 8 hokjes
- Het juiste antwoord staat er niet bij.

8. Gisteren kwam de wind uit het zuidwesten. Vandaag komt de wind uit tegenovergestelde richting. Uit welke richting komt de wind vandaag?

- noordwesten
- noordoosten
- zuidwesten
- zuidoosten

9. Een rechthoekig stuk grond van 40,9 meter breed en 59,1 meter lang wordt met een enkelvoudige draad afgezet.

Hoeveel meter draad is daarvoor nodig?

\_\_\_\_\_

10. Een feesthoedje. Welke vorm heeft dit feesthoedje?



- een cilinder
- een kegel
- een driehoek
- een piramide